

Adı :

Sınıfı :

Soyadı :

Numarası:

A) Aşağıdaki noktalı yerlere yukarıdaki uygun sözcükleri yazarak cümleleri tamamlayınız. (2'şer Puan)

vatandaşlık

krokilerde

ruh

teknolojik

mucitlere

ambalajının

sosyal

kolaylıkla

deprem

ihtiyaç

- 1) Günlük hayatta kullandığımız teknolojik ürünler sayesinde pek çok işi yapabiliriz.
- 2) İnsanın varlığını sürdürebilmesi için gerekli olan her şey olarak adlandırılır.
- 3) Yurdumuz Dünya'nın en önemli kuşaklarından birinin üzerinde yer alır.
- 4) Tarih boyunca insanın icat ettiği ve geliştirdiği bütün araç gereçler birer üründür.
- 5) Tiyatroya, sinemaya gitmek veya seyahate çıkmak ihtiyaçtır.
- 6) gerçek uzunlukların ne kadar küçültüldüğü belli değildir.
- 7) İcatlar ihtiyaçların temelini oluşturmuş ve yol göstermiştir.
- 8) Alışverişlerden sonra fiş ve fatura almak görevidir.
- 9) Zamanımızın çoğunu bilgisayarın başında geçirmek sağlığımızı olumsuz yönde etkiler.
- 10) Ürün alırken geri dönüştürülebilir malzemeden olmasına dikkat etmeliyiz.

B) Aşağıdaki cümlelerin başına doğru ise "D", yanlış ise "Y" yazınız. (2'şer Puan)

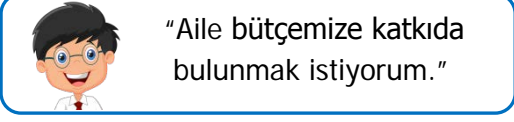
- () Teknolojik ürünler insanların ihtiyaçları sonucunda ortaya çıkıp gelişmiştir.
- () İsteklerimizi karşılamazsak hayatta kalamayız.
- () İnsanlar doğayı değiştirerek beşeri unsurlar oluştururlar.
- () Televizyon gibi dayanıklı tüketim malları alırken garanti belgesi olanları tercih etmeliyiz.
- () Ders çalışırken ışık gereğinden az veya çok olmamalıdır.
- () Yurdumuzu işgal eden ülkelere biriside Almanya'dır.
- () Wright kardeşler telsiz teknolojisini geliştirerek cep telefonuna dönüştürdü.
- () Teknolojik gelişmeler yeni mesleklerin ortaya çıkmasına neden olmuştur.
- () Alacağımız ürünün fiyat ve kalitesini farklı yerlerden araştırmalıyız.

C) Aşağıdaki ifadelerde verilen numaralarla görselleri eşleştiriniz. (3'şer Puan)

- 1) Ürünlerin Türkiyede üretildiğini ifade eder.
- 2) Ürünün ambalajının geri dönüştürülebileceğini ifade eder.
- 3) Ürünün kontrol edildiğini ifade eder.
- 4) Ürünün veya hizmetin belirlenen ihtiyaç karşıladığını anlamını taşır.



1)



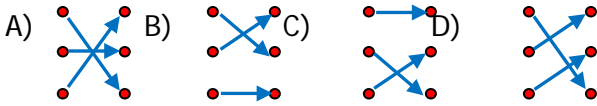
"Aile bütçemize katkıda bulunmak istiyorum."

10 yaşındaki Mert aile bütçesine nasıl katkıda bulunabilir? **5 Puan**

- A) İhtiyaçlarından vazgeçerek.
- B) Bir işte çalışarak.
- C) Kaynakları tutumlu kullanarak.
- D) Akşam yemeği yemeyerek.

- 2) Telsiz • • Wrigh Kardeşler
Uçak • • Marconi
Telgraf • • Claude Chappe

Yukarıda verilen bilim insanları ve icatlar eşleştirildiğinde hangi şekil oluşur? **5 Puan**



3)

....., sağlık, eğitim, haberleşme gibi hayatımızın her alanında kullanılmaktadır.

Yukarıdaki noktalı yere aşağıdakilerden hangisi yazılmalıdır? **5 Puan**

- A) bilgisayar
- B) cep telefonu
- C) televizyon
- D) radyo

4) Aşağıdaki davranışlardan hangisi bilinçli tüketici davranışı değildir? **5 Puan**

- A) Alışverişte mutlaka fiş veya fatura alırım.
- B) Ürünü almadan son kullanma tarihine bakarım.
- C) Reklamı yapılan ürünü incelemeden alırım.
- D) Ürünü almadan ihtiyacım olup olmadığını düşünürüm.

5) Aşağıdakilerden hangisi beşeri unsurdur? **5 Puan**

- A) dağ
- B) tünel
- C) mağara
- D) orman

6) Teknoloji ile ilgili olarak aşağıda verilen bilgilerden hangisi yanlıştır? **5 Puan**

- A) Kısa sürede daha çok iş yapmamızı sağlar.
- B) Çevreye zarar verir.
- C) Hayatımızda önemli değişikliklere yol açar.
- D) Bilim ilerledikçe teknolojik ürünlerin sayısı azalır.

7) Milli Mücadele sırasında savaştığımız cepheler ve ülkeler eşleştirmesinde hangisi yanlıştır? **5 Puan**

- A) Batı Cephesi → Yunanlılar
- B) Doğu Cephesi → Ermeniler
- C) Kuzey Cephesi → İtalyanlar
- D) Güney Cephesi → Fransızlar

8) Aşağıdakilerden hangisi bir ailenin bütçe yapmasının nedeni olamaz? **10 Puan**

- A) Gelirine göre harcamak yapmak için
- B) Ne kadar geliri olduğunu belirlemek için
- C) Gelirinden daha fazla harcama yapmak için
- D) Gelire göre ne kadar giderinin olduğunu belirlemek için

9) Aşağıdaki teknolojik ürünlerden hangisi **5 Puan** diğerlerinden farklı bir alanda kullanılmaktadır?

- A) faks
- B) klima
- C) telsiz
- D) radyo

9) I. Marketten salça almak
II. Üretilen domatesi fabrikaya taşımak
III. Domatesten salça elde etmek

Yukarıdaki verilen ekonomik faaliyetler sırasıyla hangi seçenekte doğru verilmiştir? **5 Puan**

- I. II. III.
- A) Tüketim Üretim Dağıtım
- B) Dağıtım Tüketim Üretim
- C) Tüketim Dağıtım Üretim
- D) Üretim Tüketim Dağıtım

Adı :

Sınıfı :

Soyadı :

Cevap Anahtarı

Numarası:

B) Aşağıdaki noktalı yerlere yukarıdaki uygun sözcükleri yazarak cümleleri tamamlayınız. (2'şer Puan)

vatandaşlık

krokilerde

ruh

teknolojik

mucitlere

ambalajının

sosyal

kolaylıkla

deprem

ihtiyaç

- 1) Günlük hayatta kullandığımız teknolojik ürünler sayesinde pek çok işi .. **kolaylıkla** . yapabiliriz.
- 2) İnsanın varlığını sürdürebilmesi için gerekli olan her şey ... **ihtiyaç** .. olarak adlandırılır.
- 3) Yurdumuz Dünya'nın en önemli ... **deprem** .. kuşaklarından birinin üzerinde yer alır.
- 4) Tarih boyunca insanın icat ettiği ve geliştirdiği bütün araç gereçler birer .. **teknolojik** . üründür.
- 5) Tiyatroya, sinemaya gitmek veya seyahate çıkmak ... **sosyal** . ihtiyaçtır.
- 6) .. **Krokilerde** .. gerçek uzunlukların ne kadar küçültüldüğü belli değildir.
- 7) İcatlar ihtiyaçların temelini oluşturmuş ve **mucitlere** . yol göstermiştir.
- 8) Alışverişlerden sonra fiş ve fatura almak ... **vatandaşlık** .. görevidir.
- 9) Zamanımızın çoğunu bilgisayarın başında geçirmek .. **ruh** . sağlığımızı olumsuz yönde etkiler.
- 10) Ürün alırken ... **ambalajının** .. geri dönüştürülebilir malzemeden olmasına dikkat etmeliyiz.

C) Aşağıdaki cümlelerin başına doğru ise "D", yanlış ise "Y" yazınız. (2'şer Puan)

- (D) Teknolojik ürünler insanların ihtiyaçları sonucunda ortaya çıkıp gelişmiştir.
- (Y) İsteklerimizi karşılamazsak hayatta kalamayız.
- (D) İnsanlar doğayı değiştirerek beşeri unsurlar oluştururlar.
- (D) Televizyon gibi dayanıklı tüketim malları alırken garanti belgesi olanları tercih etmeliyiz.
- (D) Ders çalışırken ışık gereğinden az veya çok olmamalıdır.
- (Y) Yurdumuzu işgal eden ülkelerden biriside Almanya'dır.
- (Y) Wright kardeşler telsiz teknolojisini geliştirerek cep telefonuna dönüştürdü.
- (D) Teknolojik gelişmeler yeni mesleklerin ortaya çıkmasına neden olmuştur.
- (D) Alacağımız ürünün fiyat ve kalitesini farklı yerlerden araştırmalıyız.

D) Aşağıdaki ifadelerde verilen numaralarla görselleri eşleştiriniz. (3'şer Puan)

- 1) Ürünlerin Türkiyede üretildiğini ifade eder.
- 2) Ürünün ambalajının geri dönüştürülebileceğini ifade eder.
- 3) Ürünün kontrol edildiğini ifade eder.
- 4) Ürünün veya hizmetin belirlenen ihtiyaç karşıladığını anlamını taşır.



4




2



1



3

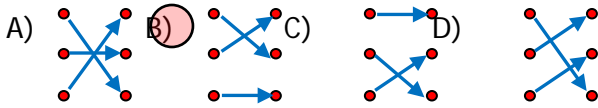
- 1)  "Aile bütçemize katkıda bulunmak istiyorum."

10 yaşındaki Mert aile bütçesine nasıl katkıda bulunabilir? 5 Puan

- A) İhtiyaçlarından vazgeçerek.
B) Bir işte çalışarak.
C) Kaynakları tutumlu kullanarak.
D) Akşam yemeği yemeyerek.

- 2) Telsiz • • Wriğh Kardeşler
Uçak • • Marconi
Telgraf • • Claude Chappe

Yukarıda verilen bilim insanları ve icatlar eşleştirildiğinde hangi şekil oluşur? 5 Puan



- 3) , sağlık, eğitim, haberleşme gibi hayatımızın her alanında kullanılmaktadır.

Yukarıdaki noktalı yere aşağıdakilerden hangisi yazılmalıdır? 5 Puan

- A) bilgisayar B) cep telefonu
C) televizyon D) radyo

4) Aşağıdaki davranışlardan hangisi bilinçli tüketici davranışı değildir? 5 Puan

- A) Alışverişte mutlaka fiş veya fatura alırım.
B) Ürünü almadan son kullanma tarihine bakarım.
C) Reklamı yapılan ürünü incelemeden alırım.
D) Ürünü almadan ihtiyacım olup olmadığını düşünürüm.

5) Aşağıdakilerden hangisi beşeri unsurdur? 5 Puan

- A) dağ B) tünel
C) mağara D) orman

6) Teknoloji ile ilgili olarak aşağıda verilen bilgilerden hangisi yanlıştır? 5 Puan

- A) Kısa sürede daha çok iş yapmamızı sağlar.
B) Çevreye zarar verir.
C) Hayatımızda önemli değişikliklere yol açar.
D) Bilim ilerledikçe teknolojik ürünlerin sayısı azalır.

7) Milli Mücadele sırasında savaştığımız cepheler ve ülkeler eşleştirmesinde hangisi yanlıştır? 5 Puan

- A) Batı Cephesi → Yunanlılar
B) Doğu Cephesi → Ermeniler
C) Kuzey Cephesi → İtalyanlar
D) Güney Cephesi → Fransızlar

8) Aşağıdakilerden hangisi bir ailenin bütçe yapmasının nedeni olamaz? 10 Puan

- A) Gelirine göre harcamak yapmak için
B) Ne kadar geliri olduğunu belirlemek için
C) Gelirinden daha fazla harcama yapmak için
D) Gelire göre ne kadar giderinin olduğunu belirlemek için

9) Aşağıdaki teknolojik ürünlerden hangisi 5 Puan diğerlerinden farklı bir alanda kullanılmaktadır?

- A) faks B) klima
C) telsiz D) radyo

9) I. Marketten salça almak
II. Üretilen domatesi fabrikaya taşımak
III. Domatesten salça elde etmek

Yukarıdaki verilen ekonomik faaliyetler sırasıyla hangi seçenekte doğru verilmiştir? 5 Puan

- I. II. III.
A) Tüketim Üretim Dağıtım
B) Dağıtım Tüketim Üretim
C) Tüketim Dağıtım Üretim
D) Üretim Tüketim Dağıtım